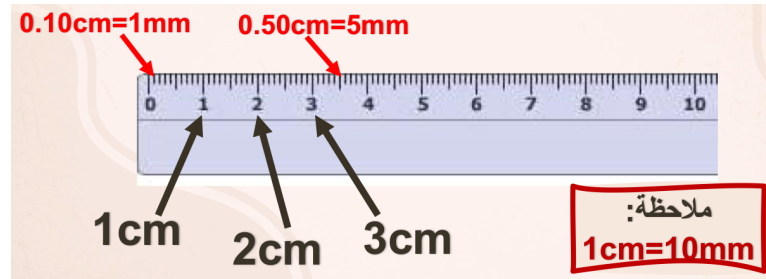
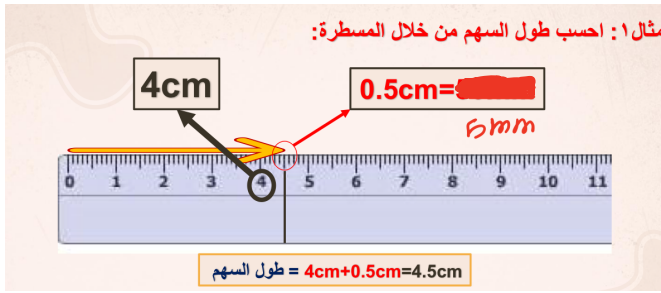
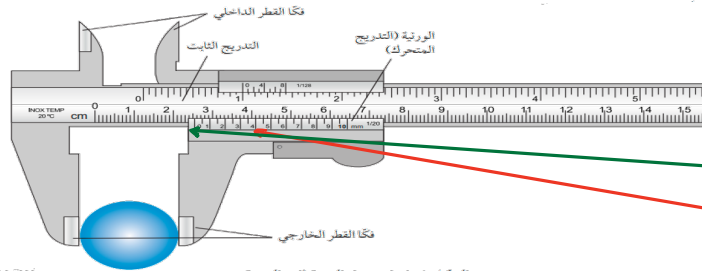


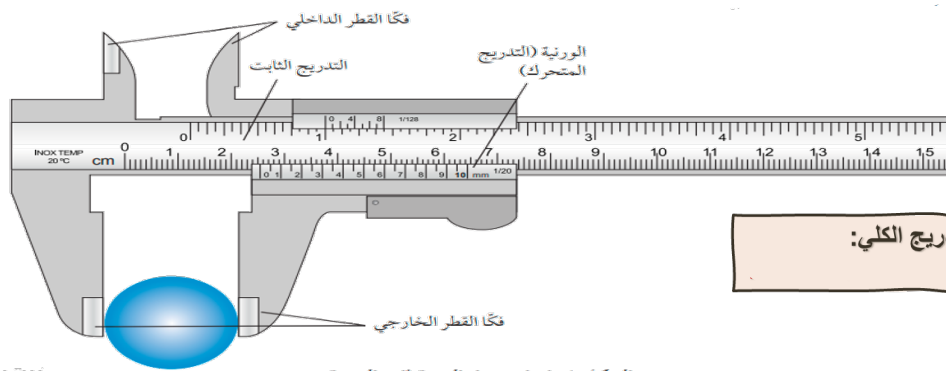
ملخص الدرس الأول :- استخدام الأدوات واتباع التعليمات



القدمة ذات الورنية :-



- أولاً نقيس التدريج الثابت بالنظر على صفر التدريج المتحرك ونقيسه بالـ cm
- يتم تحديد الخط على الورنية الذي يطابق مع خط من التدريج الثابت كل خط في التدريج المتحرك = 0.005cm و = 0.05mm
- نجمع القيمتين (التدريج الثابت + التدريج المتحرك)



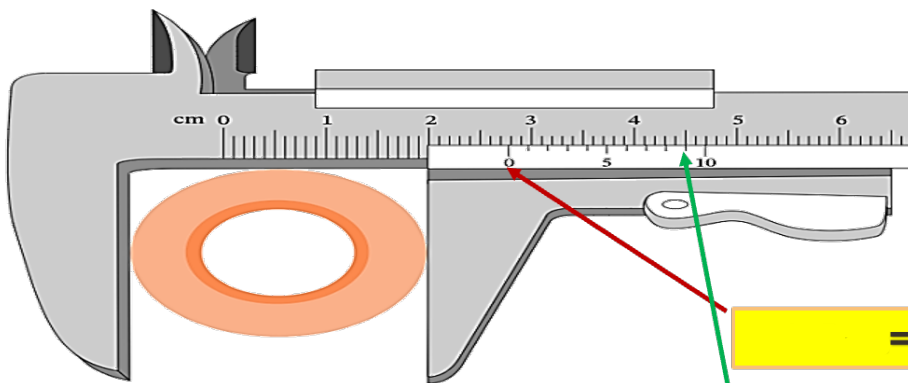
مثال :-

التدريج الرئيسي =

التدريج المتحرك =

التدريج الكلي:

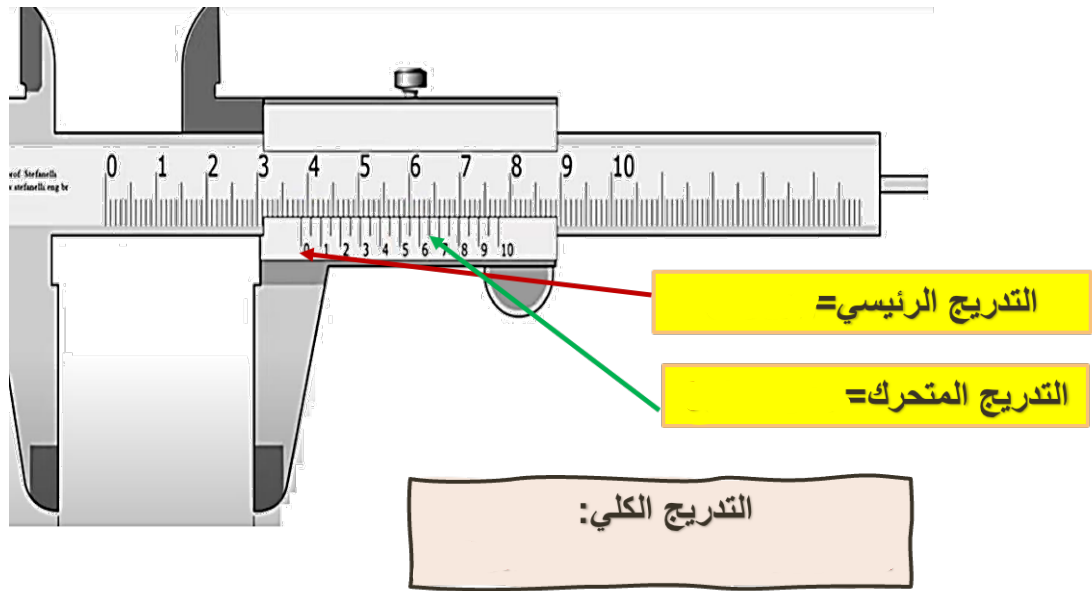
مثال :-



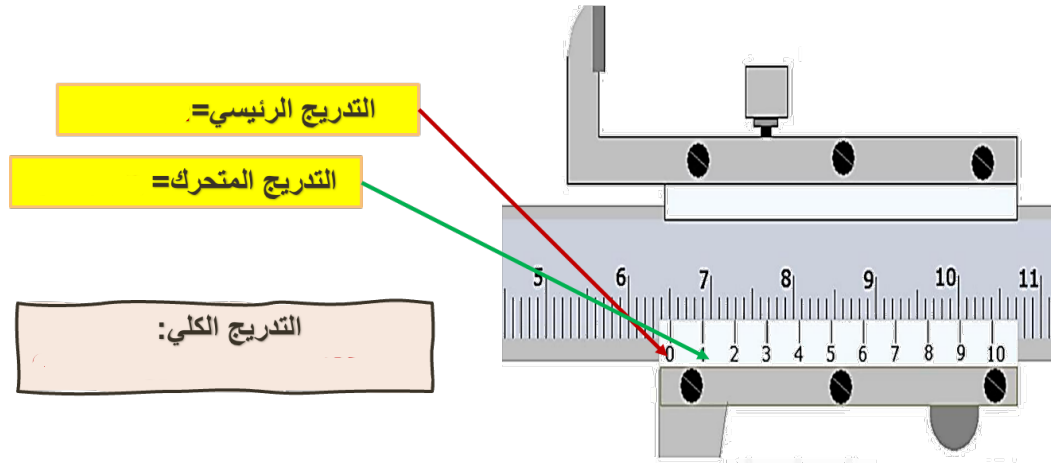
التدريج الرئيسي =

التدريج المتحرك =

التدريج الكلي:



تدريب 2 أحسب قراءة القدمة ذات الورنية الموضحة في الشكل التالي؟



نشاط ختامي :- اخترا الاجابة الصحيحة

أحسب قراءة القدمة ذات الورنية الموضحة في الشكل التالي؟

3.6cm	36mm
0.36mm	3.6mm
0.36cm	36cm

أحسب قراءة القدمة ذات الورنية الموضحة في الشكل التالي؟

0.868cm	86.2mm
8.62cm	8.62mm
86.2cm	