



# التشاطر

## الرياضيات

الصف الأول الابتدائي  
الفصل الدراسي الأول  
تدريبات عامة على الفصول  
من الأول إلى الرابع



## تدريب ١ أَمَامَكَ ٣ مَجْمُوعَاتٍ مِنَ التَّلَامِيذِ ، اكْتُبْ عَدَدَ الْبَنَاتِ فِي كُلِّ مَجْمُوعَةٍ :




١ عدد البنات في المجموعة

.....



٢ عدد البنات في المجموعة



.....



٣ عدد البنات في المجموعة

.....

## تدريب ٢ عُدَّ السَّيَّارَاتِ فِي كُلِّ صَفٍّ :




نعم لا


هل أعداد السيارات متساوية في كل صف؟




### تدريب ٣ أرسم دائرة حول الصورة المختلفة :



### تدريب ٤ أرسم دائرة حول الأشكال التي لها نفس اللون :



## تدريب 0 عُدُّ ثُمَّ لَوِّنْ حَسَبَ الْعَدَدِ كَمَا بِالْمِثَالِ :



## تدريب ٦ اُكْتُبْ عَدَدَ التُّفَاحَاتِ بِكُلِّ سَلَّةٍ :

.....

.....

.....

.....













.....

.....






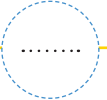




## تدريب ٧ اكْمِلْ بِكِتَابَةِ الْعَدَدِ بِالْأَرْقَامِ :

.....	.....	.....	.....	.....	.....
خمسة	أربعة	ثلاثة	اثنان	واحد	صفر
.....	.....	.....	.....	.....	.....
واحد	خمسة	ثلاثة	صفر	أربعة	اثنان


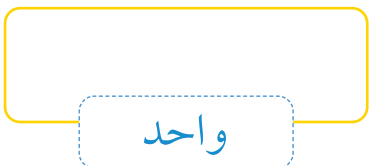

## تدريب ٨ أرسم دائرة حول المجموعة التي لها نفس العدد :

				أ
				ب
				ج

## تدريب ٩ اكتب العدد كالمثال :

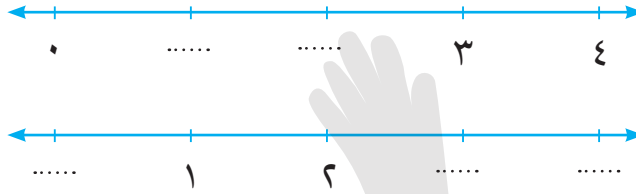
				
				
.....	.....	.....	.....	ثلاثة

## تدريب ١٠ أرسم • حسب العدد :

		
اثنان	واحد	ثلاثة



## تدريب ١١ اكْمِلْ بِكِتَابَةِ الْأَعْدَادِ النَّاقِصَةِ عَلَى خَطِّ الْأَعْدَادِ :




## تدريب ١٢ عُدَّ وَاكْتُبِ الْعَدَدَ :



.....



.....



.....

## تدريب ١٣ ارْضُم • حَسَبِ الْعَدَدِ ، ثُمَّ اكْمِلْ :

أربع .....

واحد .....

اثنان .....

ثلاث .....

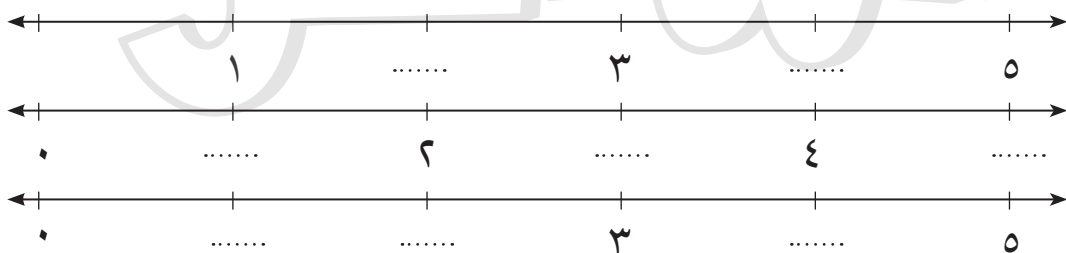

٣

١

٤

٢

## تدريب ١٤ اكْمِلْ بِكِتَابَةِ الْأَعْدَادِ الْمَفْقُودَةِ عَلَى خَطِّ الْأَعْدَادِ :



أ

ب

ج




## تدريب 10 عَدَّ ، ثُمَّ اكْتُبِ الْعَدَدَ :


## تدريب 11 صِلْ بِالْعَدَدِ الْمُنَاسِبِ :

## تدريب IV عُدِّ وَارْسُمْ ○ حَوِّلِ الْعَدَدَ ، كَمَا بِالْمِثَالِ :


مثال :




٩ ٨ ٧




٩ ٨ ٧




٩ ٨ ٧



٩ ٨ ٧

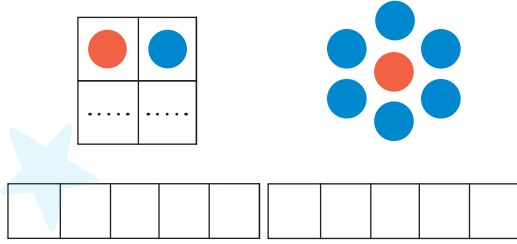


٩ ٨ ٧

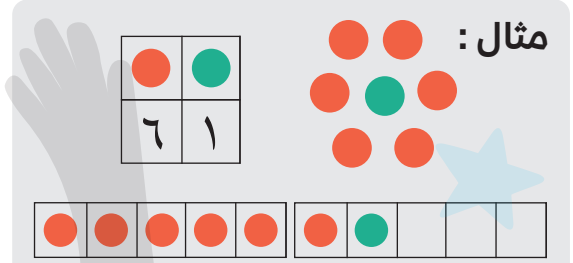


٩ ٨ ٧

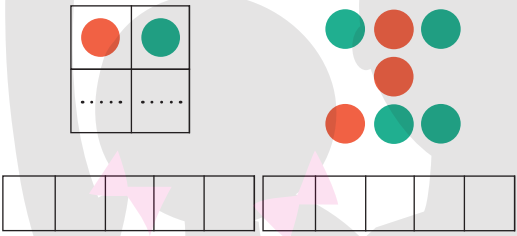
## تدريب ١٨ أكْمِلْ ثُمَّ اُكْتُبِ الْعَدَدَ ، كَمَا بِالْمِثَالِ :



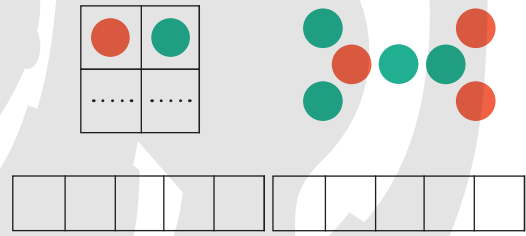
العدد : .....



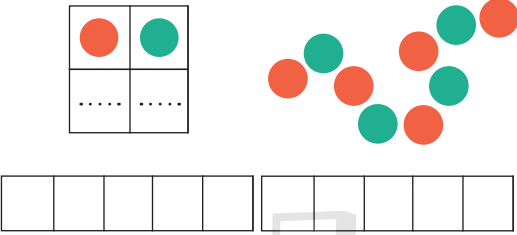
العدد : ٧



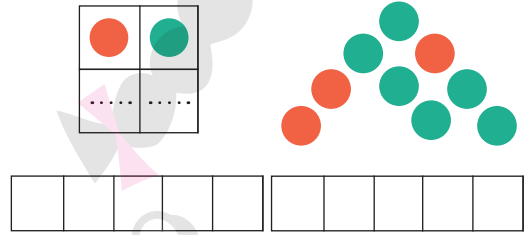
العدد : .....



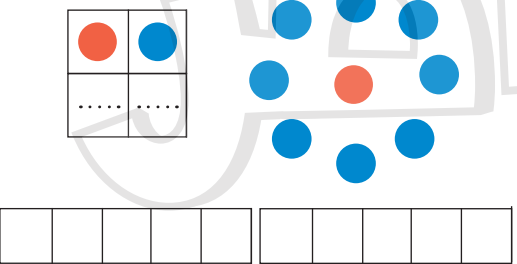
العدد : .....



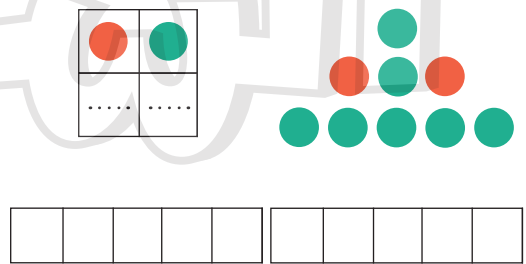
العدد : .....



العدد : .....



العدد : .....



العدد : .....

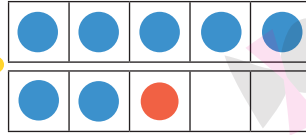


## تدريب ١٩ أرسم ○ حَوْلَ المَجْمُوعَةِ المَكُونَةِ مِنْ ١٠ أَشْيَاءَ :



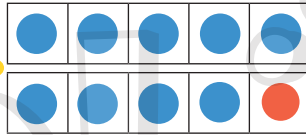
## تدريب ٢٠ صَلِّ كُلَّ عَدَدٍ بِمَا يُسَاوِيهِ :

سبعة



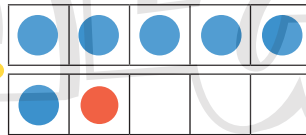
٩

تسعة



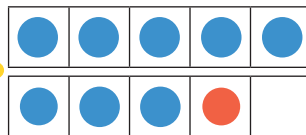
٧

عشرة



٨

ثمانية



١٠

## تدريب ٢١ أكْمِلْ ، كَمَا بِالْمِثَالِ :

مثال :

١٠

٩

٥

١٠

٨ ٢

١٠

٣

١٠

١٠

٧

١٠

٦

## تدريب ٢٢ أكْمِلْ ثُمَّ صِلْ ، كَمَا بِالْمِثَالِ :

مثال :

١٠

٨

٢

١٠

١

٢

٣

٤

٥

٦

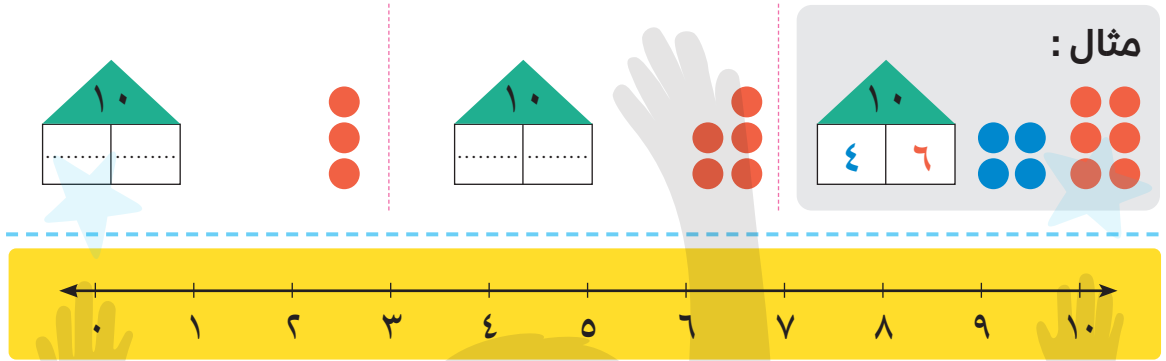
٧

٨

٩

١٠

### تدريب ٢٣ أكْمِلْ ، كَمَا بِالْمِثَالِ :













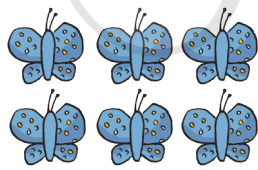

### تدريب ٢٤ أكْمِلْ مَا يَأْتِي :

- أ العدد الذي يأتي بعد العدد ٢ هو .....
- ب العدد الذي يأتي بعد العدد ٧ هو .....
- ج العدد الذي يأتي بعد العدد ١ هو .....
- د العدد الذي يأتي بعد العدد ٨ هو .....
- ه العدد الذي يأتي بعد العدد صفر هو .....
- و العدد الذي يأتي بعد العدد ٩ هو .....

### تدريب ٢٥ أكْمِلْ مَا يَأْتِي :

- أ العدد الذي يأتي قبل العدد ٤ هو .....
- ب العدد الذي يأتي قبل العدد ٧ هو .....
- ج العدد الذي يأتي قبل العدد ١٠ هو .....
- د العدد الذي يأتي قبل العدد ٨ هو .....
- ه العدد الذي يأتي قبل العدد ١ هو .....
- و العدد الذي يأتي قبل العدد ٥ هو .....

## تدريب ٨ اكْمِلْ مَا يَأْتِي :


	.....	يزيد بمقدار ١ عن	.....	
	.....	يزيد بمقدار ١ عن	.....	
	.....	يزيد بمقدار ١ عن	.....	
	.....	ينقص بمقدار ١ عن	.....	
	.....	ينقص بمقدار ١ عن	.....	
	.....	ينقص بمقدار ١ عن	.....	




## تدريب ٢٧ عُدَّ ثُمَّ اكْتُبِ الْعَدَدَ :




العدد : .....



العدد : .....



العدد : .....



العدد : .....

## تدريب ٢٨ أولاً : ارْصُم • حَسَبِ الْعَدَدِ :


١٢


١١


١٣

ثانياً : اكْمِلْ بِكِتَابَةِ الْعَدَدِ الَّذِي يَأْتِي بَعْدَ :

أ العدد الذي يأتي بعد العدد ١١ هو .....

ب العدد الذي يأتي بعد العدد ١٢ هو .....

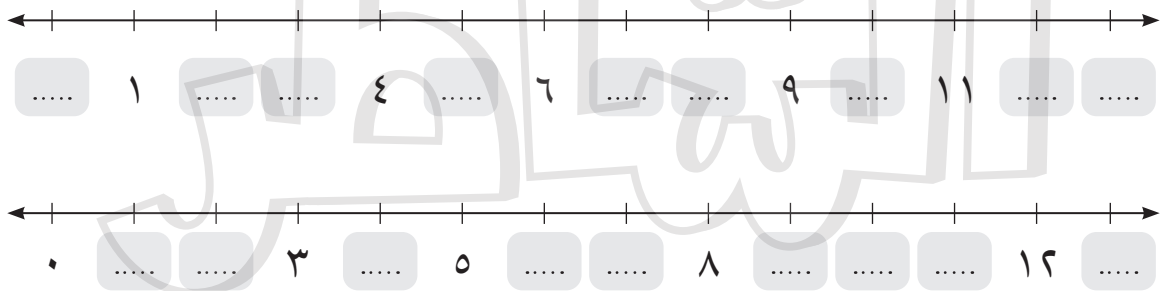
## تدريب ٢٩ عَدَّ ، ثُمَّ صِلْ بِالْعَدَدِ الْمُنَاسِبِ :

١٢

١١

١٣

## تدريب ٣٠ اكْمِلْ بِكِتَابَةِ الْأَعْدَادِ النَّاقِصَةِ :



## تدريب ٣١ عُدَّ وَاكْتُبِ الْعَدَدَ ، ثُمَّ ارْسُمْ ○ عَلَى الْعَدَدِ الْأَصْغَرِ :




.....




.....

أ




.....



.....

ب




.....




.....

ج

## تدريب ٣٢ عُدَّ وَاكْتُبِ الْعَدَدَ ، ثُمَّ ارْسُمْ ○ عَلَى الْعَدَدِ الْأَصْغَرِ :

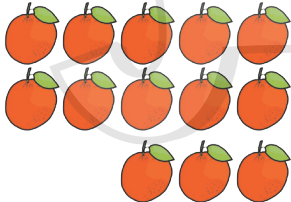


.....




.....

أ



.....



.....

ب

### تدريب ٣٣ ارسم ○ حَوْلَ الْعَدَدِ الْأَصْغَرِ :

١٣	١١	د	٥	٨	ج	٧	٣	ب	١١	٨	أ
٠	٣	ح	١٢	١٣	ز	٩	٧	9	٢	٥	هـ

### تدريب ٣٤ اكْمِلْ بِكِتَابَةِ الْعَدَدِ الْمُنَاسِبِ كَمَا بِالْمِثَالِ :


مثال : ١٢ أكبر من ١١	٨ يساوى ٨	٨ أقل من ٨
٩ أقل من ٩	١٣ أكبر من ١٢	١٢ يساوى ١٢
٦ يساوى ٦	١١ أقل من ١١	٧ أكبر من ٧

### تدريب ٣٥ اكْمِلْ بِكِتَابَةِ الْأَعْدَادِ النَّاقِصَةِ :


.....	١	.....	.....	٤	.....	٦	.....	.....	٩	.....
.....	.....	٤	.....	٦	.....	.....	٩	.....	١١	.....
.....	٤	.....	.....	٧	.....	.....	١٠	.....	١٢	.....
.....	٢	.....	.....	٥	.....	.....	٨	.....	.....	.....




## تدريب ٣٦ عَدَّ ، ثُمَّ صِلْ كُلَّ مَجْمُوعَةٍ بِالْعَدَدِ الْمُنَاسِبِ :



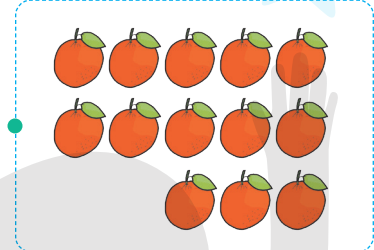
١٢




١٤




١٠



١٥

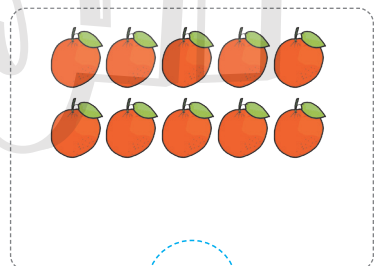

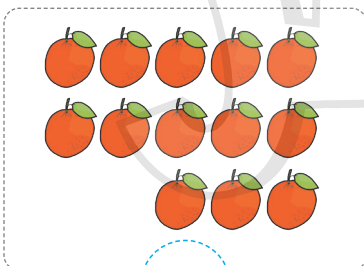
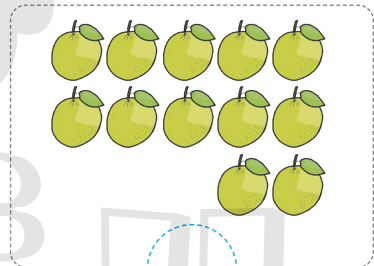
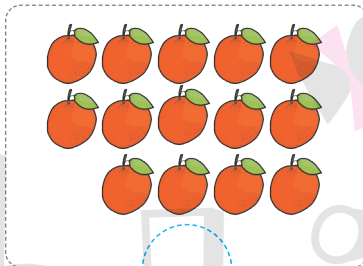
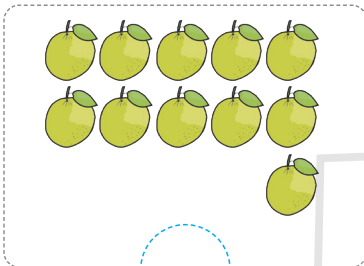


١١

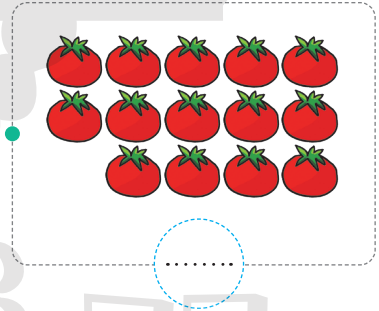
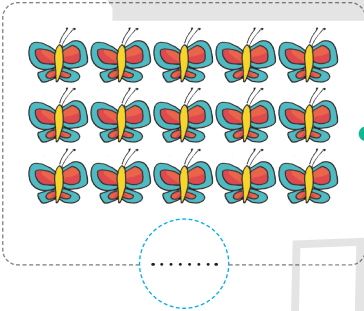
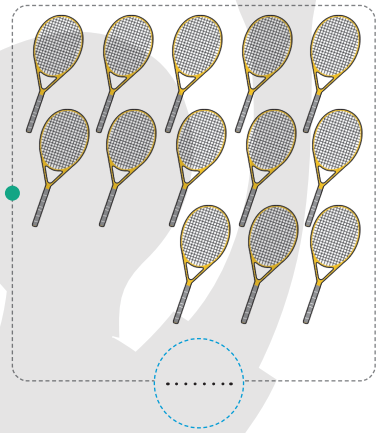


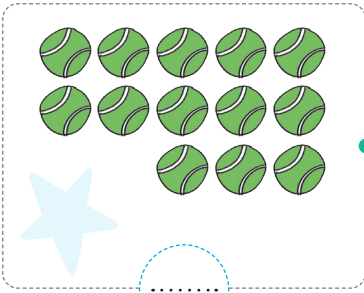


١٣

## تدريب ٣٧ عَدَّ وَارْتَبِ الْعَدَدَ :



## تدريب ٣٨ عُدِّ وَاحْتَبِ الْعَدَدَ ، ثُمَّ صِلِ الْمَجْمُوعَاتِ الْمُنْتَسَاوِيَّةَ :



## تدريب ٣٩ أُرْسِمِ ○ حَوْلَ الْعَدَدِ الْأَكْبَرِ :

١٥   ١٠

١٤   ١٣

١٠   ١٢

١٥   ١٤

## بُ أُرْسِمِ ○ حَوْلَ الْعَدَدِ الْأَصْغَرِ :

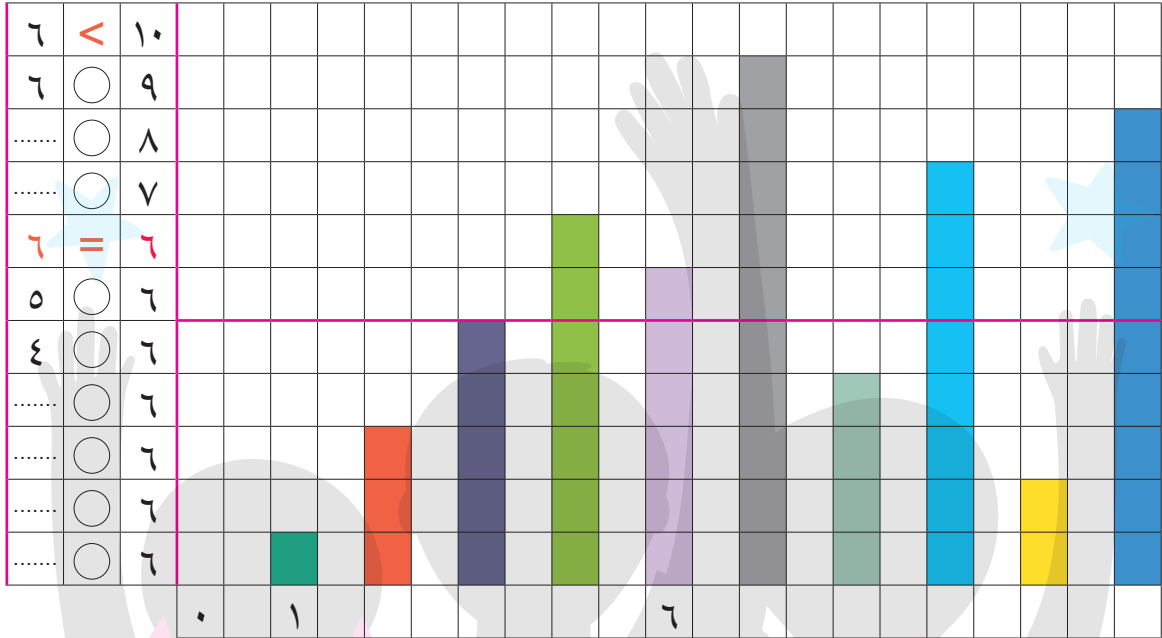
١٠   ١٤

١١   ١٥



٩   ٧

٨   ١١


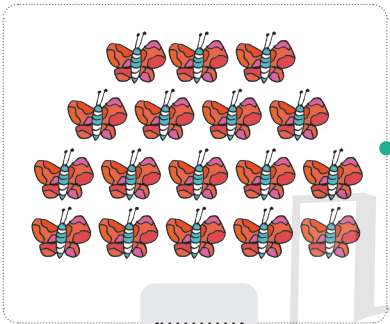




**تدريب ٤٠** قَارِنْ بِاسْتِخْدَامِ (<) أَوْ (>) أَوْ (=) وَأَكْمِلْ :



**تدريب ٤١** عَدَّ وَاکْتُبِ الْعَدَدَ ، ثُمَّ قَارِنْ بِاسْتِخْدَامِ (<) أَوْ (>) أَوْ (=) :



## تدريب ٤٢ عَدِّ وَاكْتُبِ الْعَدَدَ ، ثُمَّ صِلِ الْأَعْدَادَ الْمُتَسَاوِيَةَ :



## تدريب ٤٣ ضَعِ الرَّمْزَ الْمُنَاسِبَ (<) أَوْ (>) أَوْ (=) :

١٧ ○ ١٧

١٢ ○ ١٥

١٧ ○ ١٤

٧ ○ ١٠

١٧ ○ ١٦

٩ ○ ١٢

## تدريب ٤٤ قَارِنْ بِاسْتِخْدَامِ (<) أَوْ (>) أَوْ (=) :

$$١٦ \bigcirc ١٨$$

$$١٣ \bigcirc ١٠$$

$$٦ \bigcirc ٧$$

$$١٨ \bigcirc ١٤$$

$$١٦ \bigcirc ١٦$$

$$١٨ \bigcirc ١٧$$

## تدريب ٤٥ أَكْمِلْ بِكِتَابَةِ الْعَدَدِ الْمُنَاسِبِ :

$$\dots < ١٣$$

$$\dots > ١٠$$

$$\dots < ١٤$$

$$\dots = ١٥$$

$$\dots = ١٨$$

$$\dots > ١٧$$

$$\dots > ١٦$$


$$\dots > ١٥$$

$$\dots = ١٦$$

## تدريب ٤٦ أَكْمِلْ بِكِتَابَةِ الْأَعْدَادِ النَّاقِصَةِ :



## تدريب ٤٧ لَوْنِ الطَّيُورِ وَالْحَيَوَانَاتِ الْمُوضَّحَةَ بِالرَّسْمِ حَسَبِ الْعَدَدِ :



٨						
٧						
٦						
٥						
٤						
٣						
٢						
١						



## تدريب ٤٨ لَوْنٌ حَسَبَ نَوْعِ الْعَصَائِرِ الْمُفَضَّلَةِ لَدَى التَّلَامِيذِ :



١٢					
١١					
١٠					
٩					
٨					
٧					
٦					
٥					
٤					
٣					
٢					
١					

