

أنشطة تهيئة في مادة الرياضيات

أَكْمِل رَسْمَ الْخُطُوطِ



أَجِدِ السَّبِيلَ الْمُنَاسِبَ



اَلْوَنَ بِحَسَبِ النَّمُودِجِ



أَضَعِ عَلاَمَةً أَسْفَلَ كُلِّ بَابٍ مَفْتُوحٍ



Activités HBVDI

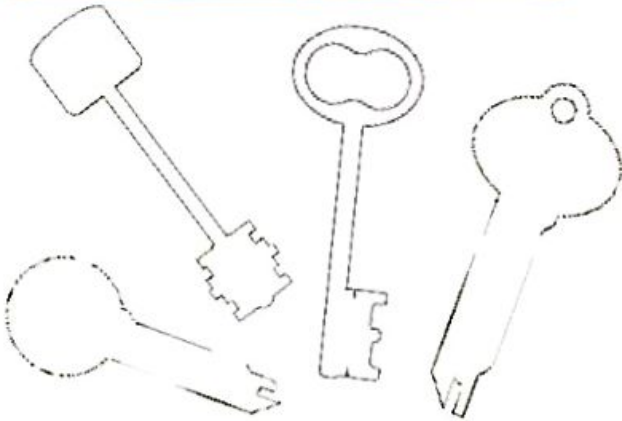
activités by haydo صفحة

الاحظ الصورة، ثم أجيب عن السؤال

اقص علامة أسفل البط الموجود داخل البزقة



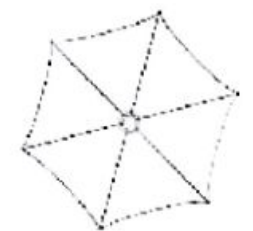
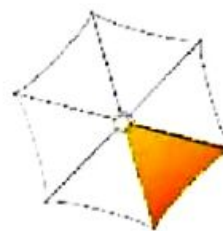
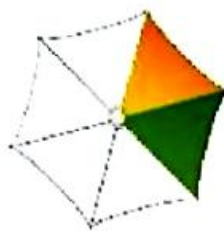
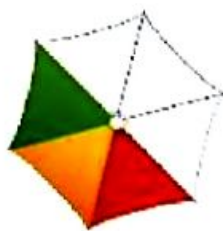
ألون كل مفتاح بظله



ألون الظل المناسب



أجمل التلوين



أَصِلْ كُلَّ سَمَكَةٍ بِظُلْمِهَا



أَشْطَبُ الْعُنْصَرِ الدُّخِيلِ فِي كُلِّ
حَالَةٍ



أَلْتَوْنُ خَانَةَ الْجَوَابِ الصَّحِيحِ

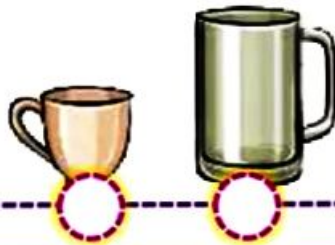


لَهَا تَفْسُ الْحَجَمِ

لَهَا تَفْسُ الطَّوْلِ

لَهَا تَفْسُ اللَّوْنِ

أَحِيطْ أَصْغَرَ الْأَشْيَاءِ وَأَضْعُ عَلَامَةً تَحْتَ أَكْبَرِهَا



أصل كل صورة يظّلها



أشطب العنصر الدخيل في كل
حالة



ألّون خانة الجواب الصحيح

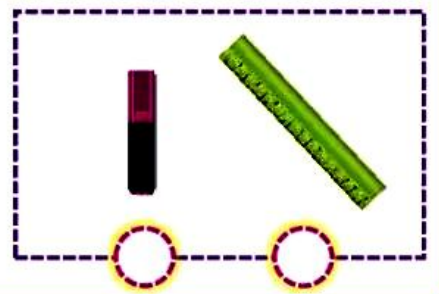
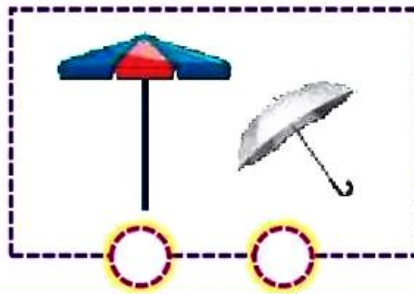


لها نفس الطول

لها نفس اللون

لها نفس الحجم

1. أحيط أقصر الأشياء وأضع علامة تحت أطولها



أنشطة تهيئية في مادة الرياضيات


أكمل رسم الخطوط



أجد السبيل المناسب



ألون بحسب النموذج



أضع علامة أسفل كل قفل مغلق




الاحْظْ الصُّورَةَ، ثُمَّ أَجِيبْ عَنِ السُّؤَالِ

أَضَعْ عَلَامَةً أَتَمَّ اللُّعْبِ الْمَوْجُودَةِ دَاخِلَ الْغَرَبَةِ




أَلَوْنُ خَاتَةِ الْجَوَابِ الصَّحِيحِ



أَلَوْنُ الظِّلِّ الصَّحِيحِ



أَتِمِّمُ التَّلْوِينَ



أنشطة تهيئية في مادة الرياضيات

أكمل رسم الخطوط



أجد السبيل المناسب



ألون بحسب النموذج



أضع علامة أسفل كل صندوق مفتوح



أصل كل كلب يظله



أشطب العنصر الدخيل في كل حالة



ألون خانة الجواب الصحيح



لها نفس الشكل

لها نفس اللون

لها نفس الحجم

أحيط أصغر الأشياء وأضع علامة تحت أكبرها



الاحِظْ الصُّورَةَ، ثُمَّ اجِيبْ عَنِ السُّؤَالِ


أَضَعْ عَلَامَةً أَسْفَلَ الْحَيَوَانَاتِ الْمَوْجُودَةِ خَارِجَ الْخَطِيزَةِ



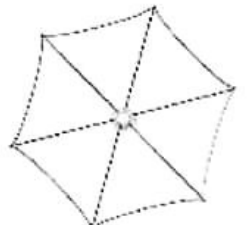
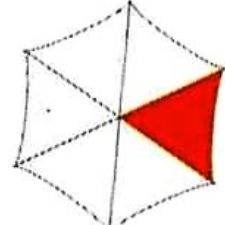
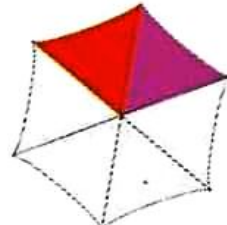
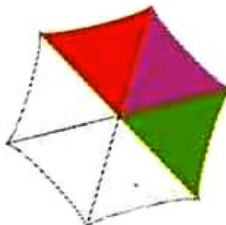
أَكُونُ الْعَصَافِيرَ دَاخِلَ الْقَفَصِ بِالْأَزْرَقِ،
وَالْعَصَافِيرَ خَارِجَهُ بِالْأَخْضَرِ



أَكُونُ الظِّلَّ الصَّحِيحَ



أَتِمُّهُمُ التَّلْوِينَ



أصل كل بهكوان يظله



أشطب العنصر الدخيل في كل حالة



ألون خانة الجواب الصحيح




لها نفس الحجم

لها نفس الطول

لها نفس اللون

أحيط أصغر الأشياء وأضع علامة تحت أكبرها



أنشطة تهيئية في مادة الرياضيات

أَكْمِل رَسْمَ الْخُطُوطِ



اَلتَّوْنِ السَّبِيلِ الْمُنَاسِبِ



اَلتَّوْنِ بِحَسَبِ النَّمُودِجِ



أَضْعُ عَلاَمَةً أَسْفَلَ كُلِّ شَيْءٍ مَفْتُوحٍ



الاحِظْ الصُّورَةَ، ثُمَّ أَجِيبْ عَنِ السُّؤَالِ

أَضَعْ عَلَامَةً أَشْفَلَ الْأَشْيَاءِ الْمَوْجُودَةِ دَاخِلَ الثَّلَاجَةِ



الاحِظْ وَأَجِيبْ



أَكُونُ خَالَةً الْجَوَابِ الصَّحِيحِ

الَلِيمُونُ دَاخِلُ السَّلَّةِ، يَفْظَرُ الَلِيمُونُ خَارِجَهَا

عَطَا

صَحِيح

أَكُونُ الظِّلِّ الصَّحِيحِ



أَتِمِّمُ التَّلْوِينَ

